

【8】练一练 二


1. 先说运算顺序,再计算。

$$\begin{aligned} & (16 + 8) \div 4 \\ & = \\ & = \\ & 6 \times 8 + 8 \\ & = \\ & = \end{aligned}$$



$$\begin{aligned} & 72 \div (24 - 16) \\ & = \\ & = \\ & 36 - (36 - 9) \\ & = \\ & = \end{aligned}$$

$$\begin{aligned} & 42 \div (42 \div 7) \\ & = \\ & = \\ & 3 \times (54 \div 6) \\ & = \\ & = \end{aligned}$$

2. 52 个同学去野炊。一辆大巴可以坐 36 人,余下的坐小面包车。

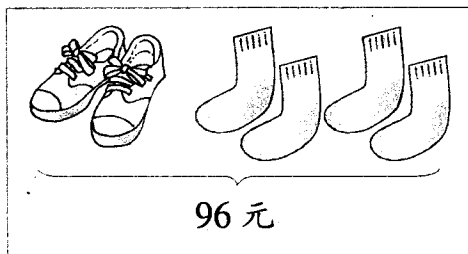


需要安排几辆
小面包车呢?



小面包车限载 8 人

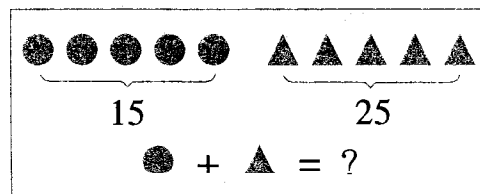

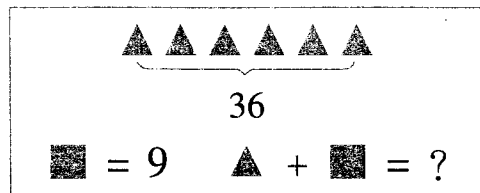
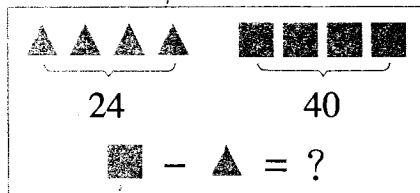
3.




一双运动鞋 88 元,
一双袜子要几元?



4. 看图列式计算。





【9】练一练 三

1. 先说运算顺序,再计算。

$$(24 + 8) \div 4$$

$$=$$

$$=$$

$$36 + 24 \div 3$$

$$=$$

$$=$$

$$81 \div (36 - 27)$$

$$=$$

$$=$$

$$80 - 50 \div 5$$

$$=$$

$$=$$

$$35 \div (63 \div 9)$$

$$=$$

$$=$$

$$6 \times 10 - 1$$

$$=$$


$$=$$

2. 把 48 个小机器人玩具分装在 1 只大盒子与 3 只小盒子里。

大盒子可以装 24 个。



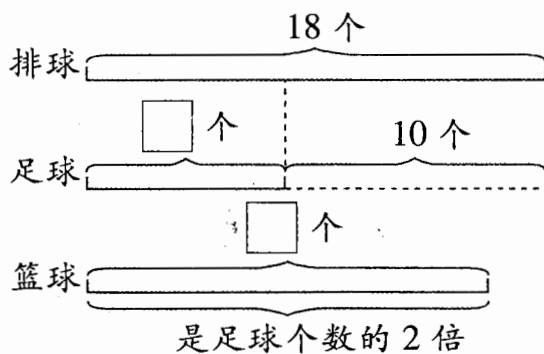
平均每只小盒子可以装多少个玩具？



余下的装在小盒子里。



3. 学校体育室有排球 18 个,足球比排球少 10 个,篮球的个数是足球的 2 倍。篮球有多少个？



4. 看图列式计算。

$$13 + \bullet \times 6 = 55$$

$$\bullet = ?$$

$$\blacktriangle + 48 \div 6 = 17$$

$$\blacktriangle = ?$$





【10】应用问题

1. 计算。

$$(43 - 27) \div 4$$
$$=$$

=

$$42 \div 6 \times 7$$
$$=$$

=

$$72 - 32 \div 8$$
$$=$$

=

$$5 \times 5 + 5$$
$$=$$

=

$$94 + 6 \times 3$$
$$=$$

=

$$54 \div (73 - 64)$$
$$=$$

=

2. 同学们种茶树和桂花树共 60 棵,其中茶树有 12 棵。桂花树种了 6 行,平均每行有多少棵?

3. 新华书店运来《中国少年儿童百科全书》80 本,每 8 本装 1 包。卖出 7 包后,还剩多少本?

4.



大华

我有 29 张邮票。

我比大华多 7 张邮票。



小刚


小刚的邮票张数是我的 4 倍呢!



小丽

根据他们的对话,你知道小丽有几张邮票吗?





【13】认识路线

1. 看图回答问题。

游泳馆	小火车	碰碰车
滑梯	魔毯	东门
蹦蹦床	南门	望远镜



- (1) ()在南门的东面,小火车在()的西面,
()在()的北面。

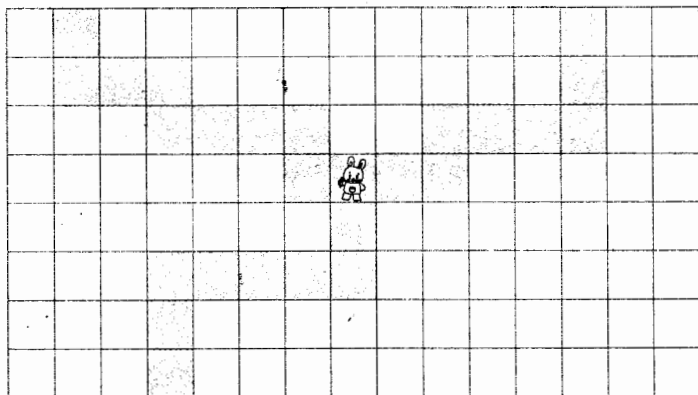
- (2) 佳佳从南门进,想去玩碰碰车,她可能会怎么走?

简单写一写:南门 $\xrightarrow{\quad}$ () $\xrightarrow{\quad}$ ()
 $\xrightarrow{\quad}$ () ()。

- (3) 你想玩什么,怎样走?

简单写一写: _____

2. 小白兔可以怎样走出沼泽地?



☐ 沼泽
☐ 通道

小白兔向()
走()格,再
向()……

简单写一写: _____





【15】整理与应用 一 (2)

1. 看图回答问题。

(1) () 在 () 的北方。 () 在 () 的西方。

() 在 () 的南方。 () 在 () 的东方。

A	D	G
B	E	H
C	F	I



(2) 小白兔从 A 出发到 I, 如果只能横向或纵向走, 它该怎么走?

简单写一写: 先向 () 走 () 格, 再 _____。

2. 根据下图写相应的算式。

$$3 \times \bullet + \blacksquare = 27$$

$$\bullet = 6 \quad \blacksquare = ?$$

$$35 \div \bullet + \blacksquare = 32$$

$$\bullet = 5 \quad \blacksquare = ?$$



这些杯子中有 18 个是印花的, 其余是白色的。白杯子有多少个?



4. 你知道数学组有多少人吗?

我们美术组有 9 人。

合唱团的人数是美术组的 3 倍。

合唱团比我们数学组多 6 人。

5. 有大小两箱苹果。



从大箱中拿几个苹果放到小箱, 两箱苹果就一样多了?

